

ШИФР Иеш - 85

**Олимпиадная работа**

школьного этапа всероссийской олимпиады школьников

по истории

обучающегося 6 класса 8

МКОУ СОШ № 7 г. о. Нальчик

Хаммберовой Дария

фамилия, имя, отчество участника олимпиады

Педагог-наставник: учитель истории Сохова Белла Мурадиновна

г.о. Нальчик, 2021г.

≈ 855

Шеш - 65

2021/2022 учебный год




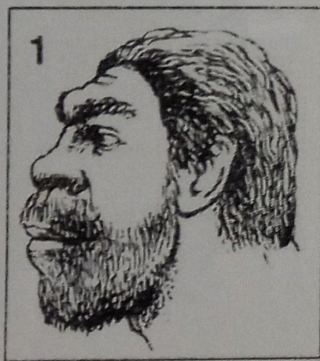
Всероссийская олимпиада школьников по истории

Школьный этап

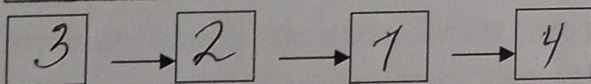
6 класс

Время выполнения – 1 час (60 минут)

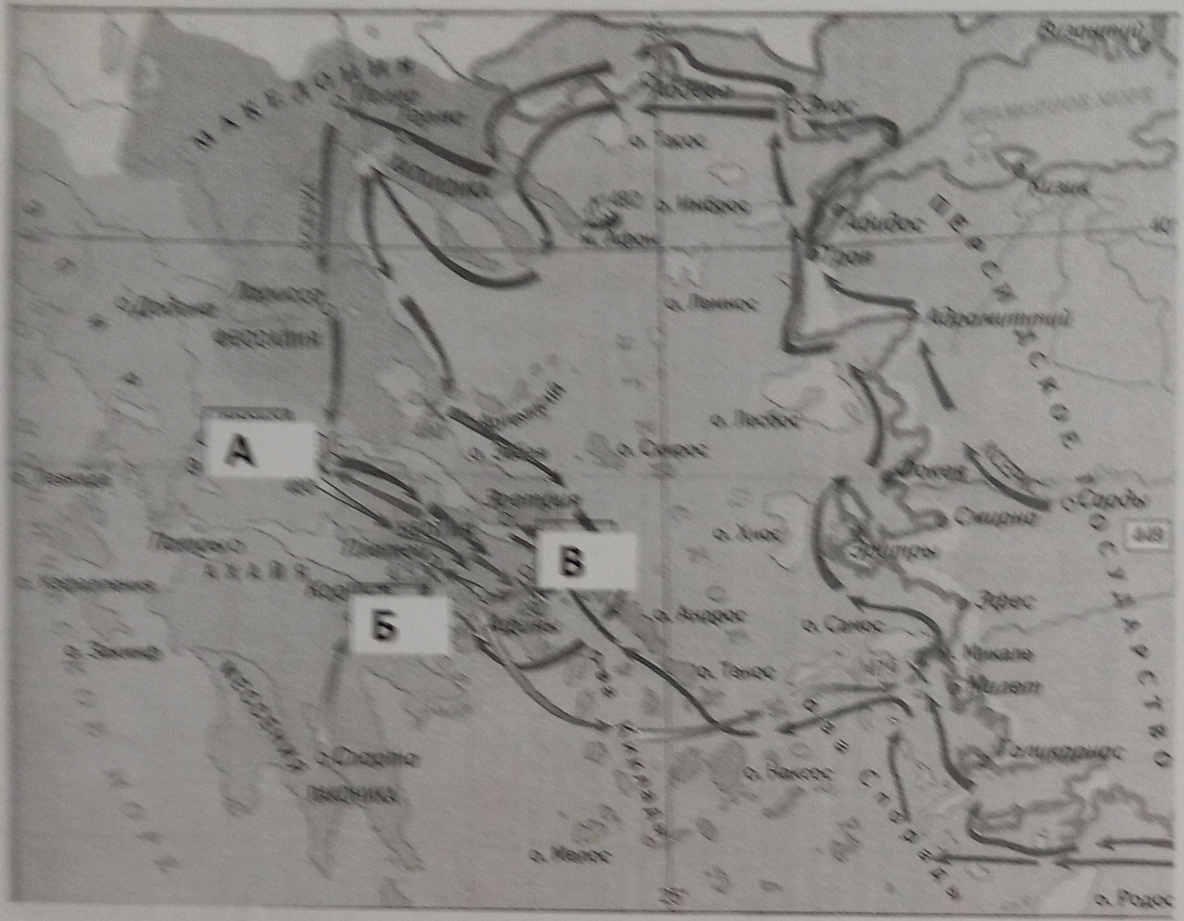
**Задание № 1.** Расположите в правильной последовательности изображения древних людей. [8 баллов].



— 85



**Задание № 2.** Соотнесите фрагменты описаний знаменитых сражений одного из знаменитых вооруженных конфликтов античности и места этих сражений, отмеченные на карте буквами. Назовите эти сражения и сам вооруженный конфликт. Свой ответ оформите в виде таблицы [14 баллов].



1. Битва при ... длилась долго. В центре боевой линии, где стояли сами персы и саки, одолевали варвары. Здесь победители прорвали ряды афинян... Однако на обоих крыльях одерживали верх афиняне и платейцы. После победы афиняне не стали преследовать обратившихся в бегство врагов, но, соединив оба крыла, сражались с врагами, прорвавшими центр. И здесь также победили афиняне. Затем они начали преследовать... бегущих персов, пока не достигли моря. Здесь они старались напасть на корабли и поджечь их.

2. Отряд же этот во главе с Леонидом спартанцы выслали вперед для того, чтобы остальные союзники видели это и также выступили в поход... Наконец, полчища Ксеркса стали подходить. Эллины же во главе с Леонидом, идя на смертный бой, продвигались теперь гораздо дальше в то место, где проход расширяется... Эллины бросились врукопашную уже вне прохода, и в этой схватке варвары погибали тысячами. За рядами персов стояли начальники отрядов с бичами в руках и ударами бичей подгоняли воинов все вперед и вперед... В этой схватке пал также и Леонид после доблестного сопротивления и вместе с ним много других знатных спартанцев.

3. «...Вперед, сыны Эллады, устремитесь в бой!  
 Освободите алтари родных богов,  
 Детей и жен своих. Ведь бой идет за все!...»  
 Когда ж в теснине корабли персидские  
 Столкнулись, весла сокрушая тяжестью,  
 Друг друга клювами бодая медными,  
 Тут ни защиты не было, ни помощи...»

Описание сражений	Буква	Название сражения
1	В 30	Маратонская битва 10
2	А 30	05
3	Б 30	Саламинское сражение 10

Название конфликта: Греческо-персидские войны 20 130

**Задание № 3.** Дайте краткое обоснование ряда и вычеркните лишнее [6 баллов].

3.1. Битва при Гавгамелах, осада Тира, битва при Иссе, битва при Платеях 10

3.2. Ра, Янус, Осирис, Анупис Янус - римский бог 15 40

3.3. Акведук, форум, циркус, амфитеатр 15

**Задание № 4.** Соотнесите изображения подвигов Геракла, античного мифологического персонажа, с их названиями. Свой ответ оформите в виде таблицы [12 баллов].

1. Добыча шкуры Немейского льва.
2. Победа над Лернейской гидрой
3. Поимка Керинейской лани.
4. Поимка Эриманфского вепря.
5. Очистка Авгиевых конюшен.
6. Изгнание Стимфалийских птиц.
7. Поимка Критского быка.

- 8. Похищение кобылиц Диомеда.
- 9. Добыча пояса Ипполиты.
- 10. Доставка в Микены коров Гериона.
- 11. Добыча золотых яблок Гесперид.
- 12. Захват пса Кербера.



А.



Б.



В.



Г.

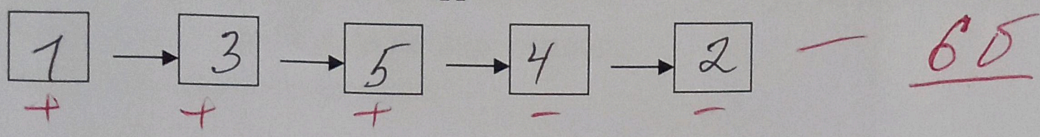
Подвиг (цифра)	Буква изображения
3	А
4	Б
2	В
12	Г

**Задание № 5.** Расположите в хронологической последовательности события поздней античности и раннего Средневековья [10 баллов].

1. Взятие Рима готами.
2. Битва при Пуатье между франками и арабами.

120

- 3. Взятие Рима вандалами.
- 4. Начало правления династии Каролингов.
- 5. Основание королевства франков в Галлии.



**Задание № 6. Ответьте на вопросы, связанные с краеведением Подмосковья. Свой ответ оформите в виде таблицы [22 балла].**

- 6.1. Выберите города Московской области, в которых сохранились древние кремли и крепости, и в которых они не сохранились наших дней. (12 баллов)
1. Можайск. 2. Коломна. 3. Зарайск. 4. Серпухов. 5. Сергиев-Посад.  
6. Волоколамск.

Города, в которых сохранились кремли и крепости	Города, в которых они не сохранились
3 5 2 6	4 1

— 120

6.2. Назовите не менее пяти городов Подмосковья, названных в честь выдающихся военных, государственных деятелей, ученых и деятелей культуры. (10 баллов)

- 1. Королев 25
  - 2. Чехов 25
  - 3. Серпухов 25
  - 4. \_\_\_\_\_
  - 5. \_\_\_\_\_
- 65

**Задание № 7. Установите соответствие между описанием подвига, совершенного в годы Великой Отечественной войны, и имени героя, его совершившего. Свой ответ оформите в виде таблицы [10 баллов].**

- |  |   |
|--|---|
| <ul style="list-style-type: none"> <li>1. Взорвал гранатой себя вместе с окружившими его врагами</li> <li>2. Направил свой горящий самолет на колонну техники врага</li> <li>3. Совершил ночной таран самолета противника</li> </ul> | <ul style="list-style-type: none"> <li>А. Николай Гастелло</li> <li>Б. Александр Матросов</li> <li>В. Виктор Талалихин</li> </ul> |
|--|---|

4. Закрыл грудью амбразуру вражеского дота

Г. Алексей Маресьев

5. Военный летчик, потеряв обе ноги, вернулся в строй и успешно воевал, сбив семь самолетов врага

Д. Анатолий Кокорин

Описание подвига	Имя Героя (буква)
1	Д
2	А
3	В
4	Б
5	Т

-100

**Задание № 8.** Укажите, какие населенные пункты Московской области являются наукоградами, а какие – населенными пунктами воинской славы и воинской доблести. Свой ответ оформите в виде таблицы [18 баллов].

Населенные пункты:

1. Фрязино. 2. Истра. 3. Молоди. 4. Дубна. 5. Кашира. 6. Реутов.  
7. Солнечногорск. 8. Протвино. 9. Ярополец.

Населенные пункты воинской славы и воинской доблести	Наукограды
2, 3, 5, 7, 8	1, 4, 6, 9

Итого – 100 баллов.

**ЖЕЛАЕМ УСПЕХОВ!!!**

-140

Президиум колхоза  
А. Сокова Б.М.  
Учма колхоза ж.у. Мабашева И.У.  
Ист-7 Тонина Т.Ф.

≈ 850